



CUIABÁ

PREFEITURA

PROCESSO SELETIVO SIMPLIFICADO PARA CONTRATOS TEMPORÁRIOS IMEDIATOS E FORMAÇÃO DE CADASTRO DE RESERVA

SECRETARIA MUNICIPAL DE SAÚDE
Nº 02/2019/SMS

ENGENHEIRO CIVIL

Duração: 2h

Leia atentamente as instruções abaixo:

01 Você recebeu do fiscal o seguinte material:

a) Este Caderno, com 20 (vinte) questões da Prova Objetiva, sem repetição ou falha, conforme distribuição abaixo:

LÍNGUA PORTUGUESA	RACIOCÍNIO LÓGICO	NOÇÕES DE INFORMÁTICA	LEGISLAÇÃO	CONHECIMENTOS ESPECÍFICOS
01 a 04	05 a 06	07 a 08	09 a 10	11 a 20

b) Um Cartão de Respostas destinado às respostas das questões objetivas.

- 02 Verifique se este material está em ordem e se o seu nome e número de inscrição conferem com os que aparecem no Cartão de Respostas. Caso contrário, notifique imediatamente o fiscal.
- 03 Após a conferência, o candidato deverá assinar no espaço próprio do Cartão de Respostas, com caneta esferográfica de tinta na cor azul ou preta.
- 04 No Cartão de Respostas, a marcação da alternativa correta deve ser feita cobrindo a letra correspondente ao número da questão e preenchendo todo o espaço interno, com caneta esferográfica de tinta na cor azul ou preta, de forma contínua e densa.

Exemplo:



- 05 Para cada uma das questões objetivas, são apresentadas 4 (quatro) alternativas classificadas com as letras (A, B, C e D), mas só uma responde adequadamente à questão proposta. Você só deve assinalar uma alternativa. A marcação em mais de uma alternativa anula a questão, mesmo que uma das respostas esteja correta.
- 06 Somente depois de decorridos 30 (trinta) minutos do início da prova, o candidato poderá entregar seu Cartão de Respostas, seu Caderno de Questões e retirar-se da sala de prova. O candidato que insistir em sair da sala de prova, descumprindo o aqui disposto, deverá assinar o Termo de Ocorrência declarando sua desistência do Concurso, que será lavrado pelo Coordenador do Local.
- 07 Ao candidato, será permitido levar seu **CADERNO DE QUESTÕES** faltando no máximo 30 (trinta) minutos para o término da prova e desde que permaneça em sala até esse momento.
- 08 Não será permitida a cópia de gabarito no local de prova. Ao terminar a prova de Conhecimentos, o candidato entregará, obrigatoriamente, ao fiscal de sala, o seu **CARTÃO DE RESPOSTAS** e o seu **CADERNO DE QUESTÕES**, ressalvado o estabelecido no item 7.
- 09 Reserve os 30 (trinta) minutos finais para marcar seu Cartão de Respostas. Os rascunhos e as marcações assinaladas no Caderno de Questões não serão levados em consideração.
- 10 Os 3 (três) últimos candidatos permanecerão sentados até que todos concluem a prova ou que termine o seu tempo de duração, devendo assinar a ata de sala e retirar-se juntos.

LÍNGUA PORTUGUESA

Hipertensão arterial e consumo de sal em população urbana

A hipertensão arterial é considerada um problema de saúde pública por sua magnitude, risco e dificuldades no seu controle. É também reconhecida como um dos mais importantes fatores de risco para o desenvolvimento do acidente vascular cerebral e infarto do miocárdio.

Vários estudos populacionais evidenciam a importância do controle da hipertensão para a redução da morbimortalidade cardiovascular. Dessa forma, as elevadas taxas de morbimortalidade cardiovascular em países de industrialização recente parecem depender de modo importante da elevada prevalência de hipertensão arterial nesses países. Apesar de não se dispor de estudos com boa representatividade em nível nacional sobre a hipertensão arterial no Brasil, pesquisas localizadas mostram prevalências elevadas, situando-se no patamar de 20 a 45% da população adulta.

Na maioria dos casos, desconhece-se a causa da hipertensão arterial. Porém, vários são os fatores que podem estar associados à elevação da pressão arterial como o sedentarismo, o estresse, o tabagismo, o envelhecimento, a história familiar, a raça, o gênero, o peso e os fatores dietéticos.

Apesar de consolidada a relação entre hipertensão arterial e os fatores nutricionais, ainda não são bem esclarecidos os mecanismos de atuação destes sobre a elevação da pressão arterial. São conhecidos, no entanto, os efeitos de uma dieta saudável (rica em frutas e vegetais e pobre em gordura) sobre o comportamento dos níveis pressóricos. Dentre os fatores nutricionais estudados e que se associam à alta prevalência de hipertensão arterial estão o elevado consumo de álcool e sódio e excesso de peso. Recentemente vêm sendo, também, associados o consumo de potássio, cálcio e magnésio, os quais atenuariam o progressivo aumento dos níveis pressóricos com a idade.

A avaliação dietética de sódio é extremamente complexa, já que sua ingestão diária varia substancialmente e pode subestimar a quantidade de sódio ingerida, pois não leva em consideração as diferenças interpessoais na adição de sal. Além disso, outro problema encontrado para a realização da avaliação dietética é a tabela de composição de alimentos utilizada, que pode variar muito de um país para o outro e não contemplar preparações regionais e os produtos industrializados produzidos internamente.

Maria del Carmen Bisi Molina
Roberto de Sá Cunha
Luis Fernando Herkenhoff
José Geraldo Mill

(Extraído de Revista de Saúde Pública, disponível em: <https://www.scielosp.org/article/rsp/2003.v37n6/743-750/>)

1. A expressão “Apesar de não se dispor de estudos com boa representatividade em nível nacional sobre a hipertensão arterial no Brasil” (2º parágrafo) está corretamente reformulada, mantendo o sentido global da frase, em:

- A) Uma vez que não se dispõem de estudos com boa representatividade em nível nacional sobre a hipertensão arterial no Brasil
- B) Embora não se disponha de estudos com boa representatividade em nível nacional sobre a hipertensão arterial no Brasil
- C) Consequentemente se dispor de estudos com boa representatividade em nível nacional sobre a hipertensão arterial no Brasil
- D) Tanto que não se disporem de estudos com boa representatividade em nível nacional sobre a hipertensão arterial no Brasil

2. Em “pesquisas localizadas mostram prevalências elevadas” (2º parágrafo), a palavra “prevalência” possui significado equivalente a:

- A) rejeição
- B) raridade
- C) incidência
- D) expectativa

3. A palavra “saúde” é acentuada pelo mesmo motivo de:

- A) dietética
- B) pública
- C) também
- D) países

4. Em “pois não leva em consideração **as diferenças interpessoais na adição de sal**” (5º parágrafo), a expressão destacada está corretamente substituída pelo pronome correspondente em:

- A) pois não as leva em consideração
- B) pois não lhes leva em consideração
- C) pois não leva-a em consideração
- D) pois não leva-lhe em consideração

RACIOCÍNIO LÓGICO

5. No departamento de Matemática de uma determinada faculdade há exatamente 9 professores, sendo 4 homens e 5 mulheres. Caso se forme uma comissão com três desses professores contendo pelo menos uma mulher, o número máximo de comissões distintas que se pode formar é igual a:

- A) 84
- B) 80
- C) 78
- D) 72

6. A negação da proposição “**todos os matemáticos são felizes**” é:

- A) alguns matemáticos são felizes
- B) existem matemáticos que são felizes
- C) existem matemáticos que não são felizes
- D) nenhum matemático não é feliz

NOÇÕES DE INFORMÁTICA

7. A seguinte planilha foi criada no Excel 2016 BR.

	A	B	C
1		 SECRETARIA MUNICIPAL DE SAÚDE	
2			
3			
4			
5	#	CENTRO DE SAÚDE	TELEFONE
6	1	JARDIM IMPERIAL	(65) 3617- 1661
7	2	PARQUE CUIABÁ	(65) 3617- 1640
8	3	CAMPO VELHO	(65) 3617- 1601
9	4	COAB SÃO GONÇALO	(65) 3617- 1445
10	5	PAIAGUÁS	(65) 3617- 1670
11			
12		PROCV =	PAIAGUÁS

Em C12 foi inserida uma expressão que usa a função PROCV para determinar o conteúdo mostrado na célula.

A expressão é:

- A) =PROCV(A6;A6:C10;2;1)
- B) =PROCV(A6;A6:C10;3;1)
- C) =PROCV(A10;A6:C10;2;1)
- D) =PROCV(A10;A6:C10;3;1)

8. No Windows 10 BR, a execução do atalho no teclado

Tecla do logotipo do Windows + E

tem por finalidade abrir a janela do seguinte recurso do sistema operacional:

- A) painel de controle
- B) explorador de arquivos
- C) gerenciador de dispositivos
- D) ferramentas de configuração

LEGISLAÇÃO

9. O Prefeito do município TY pretende realizar obras para marcar o seu mandato como empreendedor. Nos termos da Lei Orgânica do município de Cuiabá, nenhuma obra pública, salvo nos casos de extrema urgência devidamente justificados, será realizada sem que conste:

- A) a planta do local
- B) o orçamento do seu custo
- C) o prazo provável de conclusão
- D) a promessa de recursos financeiros

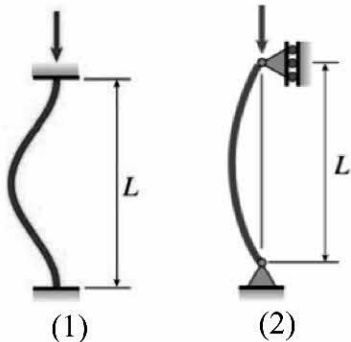
10. Sandra é gerente de operações de determinada Secretaria de Saúde e busca realizar os objetivos expostos pela legislação que regula o Sistema Único de Saúde. Nos termos da Lei nº 8.080/90, dentre os objetivos do Sistema Único de Saúde, consta a execução de ações de assistência terapêutica integral, inclusive:

- A) experimental
- B) prospectiva
- C) farmacêutica
- D) alternativa

(A prova continua na página seguinte)

CONHECIMENTOS ESPECÍFICOS

11. A figura a seguir apresenta duas colunas metálicas constituídas pelo mesmo material e geometricamente idênticas.



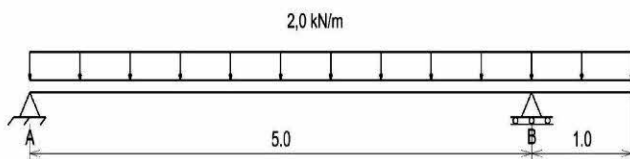
Sabendo que a carga crítica de flambagem da coluna (2) é igual a P , a carga crítica de flambagem da coluna (1) é:

- A) $P/4$
- B) $P/2$
- C) $2P$
- D) $4P$

12. Uma barra prismática de seção quadrada é formada por aço carbono com módulo de elasticidade longitudinal igual a 200 GPa e possui comprimento de 2,0 m. Sabendo que essa barra será submetida a uma tração axial de 100 kN, a máxima tensão admissível vale 250 MPa e o máximo deslocamento admissível nessa barra é de 0,1 mm, o menor valor para o lado de sua seção transversal é de:

- A) 25 mm
- B) 50 mm
- C) 100 mm
- D) 125 mm

A figura a seguir apresenta uma viga biapoiada submetida à ação de uma carga distribuída uniforme. Sobre essa viga, sabendo que as dimensões são dadas em metros, responda às questões 13 e 14.



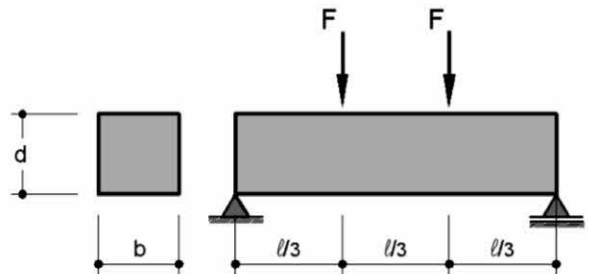
13. A reação no apoio A vale:

- A) 2,8 kN
- B) 4,8 kN
- C) 7,2 kN
- D) 9,2 kN

14. Sabendo que a viga possui seção transversal quadrada de lado 20 cm e desprezando o efeito do cortante, a tensão na fibra superior da viga sobre o apoio B vale:

- A) 250 kPa
- B) 500 kPa
- C) 750 kPa
- D) 1250 kPa

15. A figura a seguir ilustra, esquematicamente, a realização de um teste em uma viga de concreto armado com seção transversal retangular.



Nesse teste, é possível obter:

- A) a resistência à tração na flexão do concreto
- B) a resistência ao cisalhamento do concreto
- C) a resistência à compressão axial do concreto
- D) o módulo de deformação longitudinal do concreto

16. Um determinado tipo de solo é formado predominantemente por partículas cujos diâmetros são de aproximadamente 0,01 mm. Pode-se dizer que esse solo é composto basicamente por:

- A) pedregulho
- B) argila
- C) areia
- D) silte

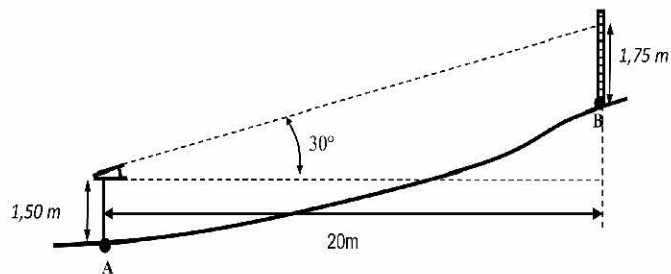
17. As fundações em uma obra de engenharia podem ser classificadas em rasas ou profundas. Dentre as fundações listadas a seguir, a única que pode ser classificada como do tipo rasa é:

- A) estaca
- B) radier
- C) caixão
- D) tubulão

18. Uma galeria de drenagem de seção retangular possui uma base de 2,00 m. Sabendo-se que essa galeria deve trabalhar com uma seção máxima preenchida de 80%, que a velocidade de escoamento prevista é de 1,5m/s e que deve suportar uma vazão de até 4m³/s, a altura mínima da galeria deve ser de, aproximadamente:

- A) 1,25 m
- B) 1,33 m
- C) 1,67 m
- D) 1,75 m

19. A figura seguinte ilustra um nivelamento trigonométrico, largamente empregado em topografia.



Considerando $\text{tg}30^\circ \sim 0,58$, a diferença de cota entre o ponto A, onde se instalou o instrumento, e o ponto B, onde a régua foi posicionada, vale:

- A) 11,35 m
- B) 14,10 m
- C) 15,85 m
- D) 17,20 m

20. As camadas típicas da estrutura de um pavimento do tipo flexível, ordenadas desde a mais externa (superior) até a mais interna (inferior) são:

- A) sub-base, revestimento, base e leito
- B) leito, revestimento, base e sub-base
- C) base, sub-base, revestimento, e leito
- D) revestimento, base, sub-base e leito

